

10. Les nombres jusqu'à 100

Activité 4

Séance 84 - Comptons de un en un, comptons de dix en dix (1)

1 Écris les nombres manquants.

Boîtes aux lettres									
1	2	3	4	5	6	7	8	9	10
11	12	13	14		16	17	18	19	
21	22	23	24		26	27	28	29	
31	32	33	34		36	37	38	39	
41	42	43	44		46	47	48	49	
51									60
61	62	63	64		66	67	68	69	
			74		76	77	78	79	
91	92	93	94		96	97	98	99	

Que remarques-tu ? Écris une phrase.

© La Librairie des Écoles 2016

2 a) Colorie en rouge les carrés qui contiennent les nombres suivants.

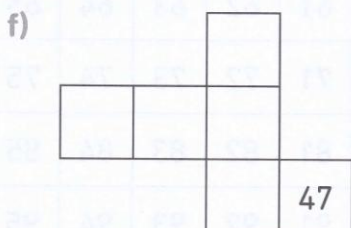
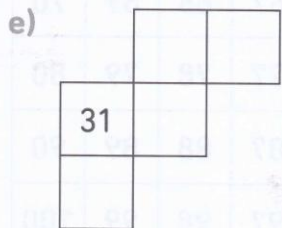
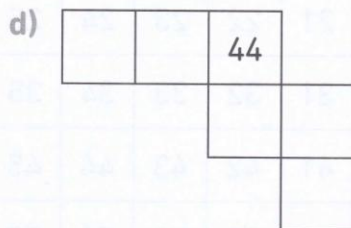
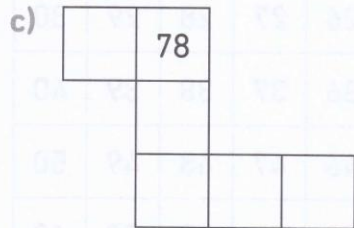


- | | |
|------------------------|------------------------|
| 1 dizaine et 7 unités | 5 dizaines et 5 unités |
| 7 dizaines et 6 unités | 8 dizaines et 6 unités |
| 5 dizaines et 7 unités | 3 dizaines et 8 unités |
| 6 dizaines et 0 unité | 8 dizaines et 9 unités |
| 2 dizaines et 5 unités | 7 dizaines et 9 unités |

1	2	3	4	5	6	7	8	9	10
11	12	13	14	15	16	17	18	19	20
21	22	23	24	25	26	27	28	29	30
31	32	33	34	35	36	37	38	39	40
41	42	43	44	45	46	47	48	49	50
51	52	53	54	55	56	57	58	59	60
61	62	63	64	65	66	67	68	69	70
71	72	73	74	75	76	77	78	79	80
81	82	83	84	85	86	87	88	89	90
91	92	93	94	95	96	97	98	99	100

b) Colorie en bleu les carrés qui contiennent un nombre comportant 9 dizaines.

© La Librairie des Écoles 2016

3 Maël a découpé la grille de la page 163 en morceaux pour en faire un puzzle.
Voici 6 morceaux.
Écris les nombres manquants.




10. Les nombres jusqu'à 100

Activité 5

Séance 85 - Comptons de un en un, comptons de dix en dix (2)

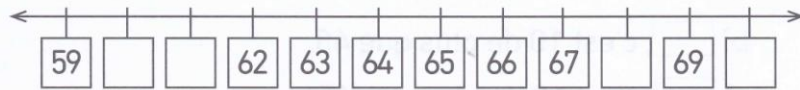
1 a) Écris les nombres manquants.



b) Quel nombre est plus grand que 30 de 1 unité ?

c) Quel nombre est plus petit que 30 de 1 unité ?

2 a) Écris les nombres manquants.




b) , c'est 1 de plus que 61.

c) , c'est 1 de moins que 68.

d) , c'est 1 de moins que 70.

3 a) Écris les nombres manquants.



b) Quel nombre est plus grand que 50 de 1 dizaine ?

c) , c'est 1 dizaine de plus que 60.

d) , c'est 1 dizaine de moins que 40.

e) , c'est 1 dizaine de moins que 100.

4 a) Écris les nombres manquants.



b) , c'est 10 de plus que 45.

c) , c'est 10 de plus que 65.

d) , c'est 10 de moins que 95.

10. Les nombres jusqu'à 100

Activité 6

Séance 86 - Suites de nombres

1 Écris les nombres manquants.

18 20 22 24 28 30 32

- a) Quel nombre vaut 2 de plus que 32 ?
- b) Quel nombre vaut 2 de moins que 28 ?

2 Écris les nombres manquants.

11 13 15 17 23 25 27

- a) , c'est 2 de plus que 17.
- b) , c'est 2 de moins que 23.
- c) , c'est 2 de plus que 27.

3 Écris les nombres manquants.

27 28 29 30 32 34

- a) Quel nombre vaut 1 de plus que 30 ?
- b) Quel nombre vaut 1 de moins que 34 ?

4 Écris les nombres manquants.

0 20 30 40 50 70 80 90

- a) Quel nombre vaut 10 de plus que 0 ?
- b) Quel nombre vaut 10 de moins que 20 ?
- c) , c'est 10 de moins que 70.
- d) , c'est 10 de plus que 90.

5 Complète les suites de nombres.

a) 14 16 20 22 24 26

b) 39 41 43 45 49 51

c) 16 17 18 19 20 22

d) , 48, , , 51, , , 54, , 56, .

e) , , 39, 41, 43, 45, , , 51, 53, .

f) , 10, 20, , 40, , 60, , , 90, .

g) , 24, 34, , 54, , , 84, .

10. Les nombres jusqu'à 100

Activité 7

Séance 87 - Comparons par soustraction


1 Combien de chiens y a-t-il de plus que d'os ?



$$12 - 4 = \square$$

Il y a chiens de plus que d'os.

2 Combien d'asticots y a-t-il de moins que de poissons ?



$$15 - 5 = \square$$

Il y a asticots de moins que de poissons.

3 Combien de y a-t-il de plus que de ?



$$18 \bigcirc 3 = \square$$

Il y a de plus que de .

4 Combien d'autocollants Idris a-t-il de moins qu'Alice ?

J'ai 16 autocollants.

J'ai 9 autocollants.



$$\square \bigcirc \square = \square$$

Idris a autocollants de moins qu'Alice.