

14. L'addition et la soustraction jusqu'à 100

Activité 6

Séance 115 - Additionnons en groupant différemment

À toi ! Additionne.

a) $26 + 9 = \square$
B

b) $24 + 6 = \square$
H

c) $16 + 7 = \square$
N

d) $69 + 4 = \square$
A

e) $5 + 77 = \square$
M

f) $9 + 86 = \square$
V

g) $35 + 29 = \square$
P

h) $17 + 16 = \square$
C

i) $21 + 39 = \square$
R

j) $79 + 15 = \square$
O

k) $48 + 29 = \square$
I



Écris les lettres qui correspondent aux nombres que tu as trouvés pour découvrir ce que dit Maël.

 !

35 60 73 95 94 33 30 73 82 64 77 94 23

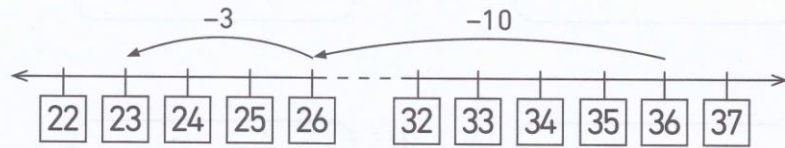
14. L'addition et la soustraction jusqu'à 100

Activité 7

Séance 117 - Soustrayons des dizaines et des unités (2)

1 Soustrais en comptant à rebours à partir du plus grand nombre.

a) $36 - 13 = \square$



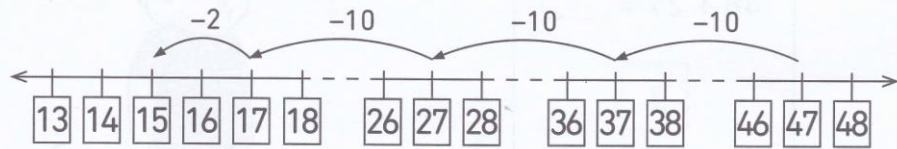
36 - 10 - 3...



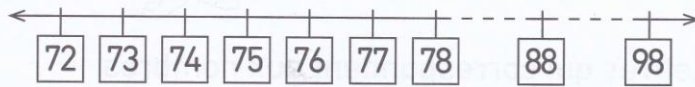
... ou 36 - 3 - 10



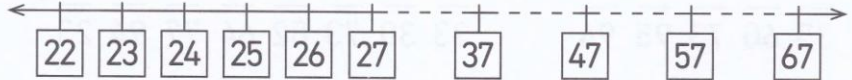
b) $47 - 32 = \square$



c) $98 - 25 = \square$



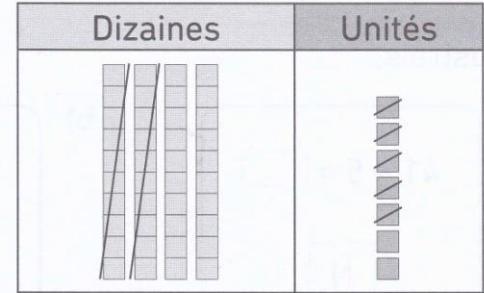
d) $67 - 45 = \square$



© La Librairie des Écoles 2016

2 Soustrais en utilisant un des tableaux de dizaines et d'unités.

a) $47 - 25 = \square$



Dizaines	Unités
4	7
- 2	5
<input type="text"/>	<input type="text"/>

47, c'est 4 dizaines et 7 unités.
25, c'est 2 dizaines et 5 unités.



b) $68 - 41 = \square$

c) $76 - 13 = \square$

d) $54 - 33 = \square$

© La Librairie des Écoles 2016