

★ Prénom :

 Date :



FICHE EXERCICES 1

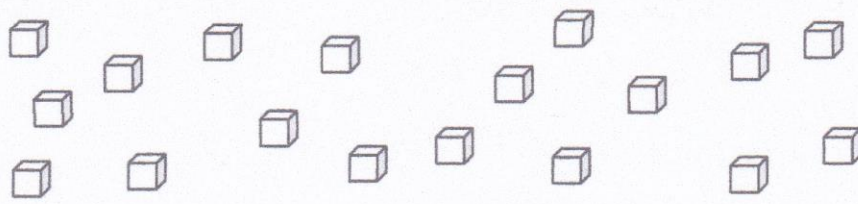


REVISIONS

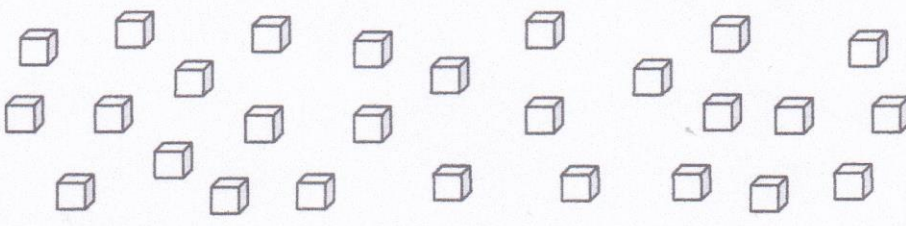


1/ Ecris les nombres dictés (10 nombres compris entre 1 et 99).

2/ Complète les suites numériques (tu peux t'aider de ton tableau numérique).

4	6			12	14		18		22	
5	15				55	65				
10		30	40			70				

3/ Groupe les cubes par dix. Ecris le nombre de cubes.

	 dizaines	 unités

	 dizaines	 unités

4/ Calcule (calcul mental) :

$4 + 8 = \dots\dots$

$7 + 12 = \dots\dots$

$9 - 7 = \dots\dots$

$10 - 10 = \dots\dots$

$7 + \dots\dots = 15$

$\dots\dots - 5 = 10$

$\dots\dots - 14 = 3$

$17 + \dots\dots = 20$

★ Prénom :

🐑 Date :



FICHE EXERCICES 3

REVISIONS

1/ Ecris les nombres dictés (10 nombres compris entre 1 et 99).

		40	39	38		36		34	33	
--	--	----	----	----	--	----	--	----	----	--

16		36		56		76		96	
----	--	----	--	----	--	----	--	----	--

	10	15		25		35	40		50	
--	----	----	--	----	--	----	----	--	----	--

3/ Complète le tableau pour écrire le nombre :

		dizaines		unités

		dizaines		unités

4/ Réponds :

Rémi avait 18 billes. Il en perdu 3. Combien lui en reste t-il ?

Cacul : _____

Phrase réponse : _____