





Prénom : \_\_\_\_\_

date : \_\_\_\_\_

Résolution de problèmes

Voici les ateliers des enfants inscrits dans le centre de loisirs :

Tennis	Musique	Peinture	Foot
			
Emma Simon Jules Anaïs	Léo Inès Bastien Laïla	Pierre Amandine Yanis Maéva	Rachel Juliette Clément Thibault

Complète.

Amandine fait .....

Bastien fait .....

Clément fait .....

Léo fait .....

Entoure la bonne réponse.

Maéva est dans le même groupe que Pierre.      oui      non


Simon est dans le même groupe que Thibault.      oui      non

Anaïs fait de la musique.      oui      non

Emma fait du tennis.      oui      non

A

François observe les oiseaux dans le parc. Il a vu 4 merles, 7 pigeons et 10 moineaux.

François a observé  oiseaux.

Saurais-tu écrire une égalité qui correspond à ce problème ? .....

B